

Ne jucăm!
Adunarea și scăderea numerelor de la 0 la 10

1. Ajut-o pe Clopoțița să nu greșească la calcule.

$2 + 1 = \boxed{\quad} \boxed{\quad}$

$8 - 4 = \boxed{\quad} \boxed{\quad}$

$3 + 6 = \boxed{\quad} \boxed{\quad}$

$9 - 6 = \boxed{\quad} \boxed{\quad}$

$7 + 2 = \boxed{\quad} \boxed{\quad}$

$4 - 0 = \boxed{\quad} \boxed{\quad}$

2. Colorează, alături de Clopoțița, caseta cu rezultatul corect.

$2 + 5 = \boxed{3} \boxed{7} \boxed{6}$


$4 + 4 = \boxed{9} \boxed{5} \boxed{8}$

$7 - 6 = \boxed{4} \boxed{2} \boxed{1}$

$9 - 9 = \boxed{0} \boxed{6} \boxed{3}$



3. Completează petalele florii cu operații care au ca rezultat cifra 8.



4. Completează căsuțele cu semnele + sau - .

$8 \square 1 = 9$


$9 \square = 3$

$8 = 8 \square 0$

$2 \square 2 = 0$



$1 \square 5 = 6$

$7 = 9 \square$



5.

Câte furnici vor să intre în mușuroi?



6. Rezolvă exercițiile și scrie în căsuțe denumirile imaginilor în ordinea descrescătoare a rezultatelor.

Luna

Pământ

Soare

$7 + 3 =$

$8 - 6 =$

$4 =$

