

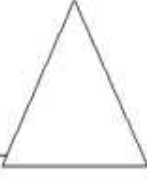
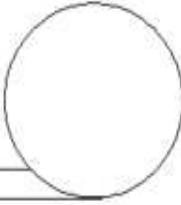




Grupa nr. 3

Fișă de lucru. Figuri geometrice

<p>1. Priviți figura și notați:</p>  <p>Figura de mai sus este _____ Are _____ laturi _____ Are _____ colțuri. Seamănă cu _____ Transformați pătratul într-un desen.</p>	<p>2. Priviți figura și notați:</p>  <p>Figura de mai sus este _____ Are două laturi _____ și două laturi _____ Are _____ colțuri. Seamănă cu _____ Transformați dreptunghiul într-un desen.</p>
<p>3. Priviți figura și notați:</p>  <p>Figura de mai sus este un _____ Are _____ laturi. Are _____ colțuri. Seamănă cu _____ Transformați triunghiul într-un desen.</p>	<p>4. Priviți figura și notați:</p>  <p>Figura de mai sus este un _____ Este formată dintr-o _____ _____ are colțuri. Seamănă cu _____ Transformați cercul într-un desen.</p>

<https://educatiamarcheazaviitorul.blogspot.com/2017/11/adunari-si-scaderi-0-1-000-000-cu-si.html>