

Grupa nr. 2


Fișă de lucru. Adunari și scăderi 0-30 cu trecere peste ordin



## Fișă de lucru

Adunarea și scăderea 0-30, cu trecere peste ordin

1. Numără și calculează:

b)  $16 - 8 =$ 

2. Desenează atâtea buline negre câte trebuie și scrie în căsuțe numărul lor!

$$5 + \square = 11 \quad 3 + \square = 12 \quad 7 + \square = 13 \quad 4 + \square = 14$$



3. Pe gheață patinează 14 copii, dintre care 7 sunt băieți. Câte fete sunt?




4. Descoperă numerele și rezolvă problema:

Într-un coș râdeau la soare  
Șapte mere ionatane  
Trei gutui și nouă pere  
Câte fructe sunt, măi, vere?

## Fișă de lucru

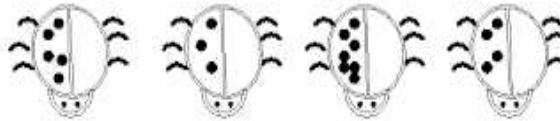
Adunarea și scăderea 0-30, cu trecere peste ordin

1. Numără și calculează:

b)  $16 - 8 =$ 

2. Desenează atâtea buline negre câte trebuie și scrie în căsuțe numărul lor!

$$5 + \square = 11 \quad 3 + \square = 12 \quad 7 + \square = 13 \quad 4 + \square = 14$$



3. Pe gheață patinează 14 copii, dintre care 7 sunt băieți. Câte fete sunt?



4. Descoperă numerele și rezolvă problema:

Într-un coș râdeau la soare  
Șapte mere ionatane  
Trei gutui și nouă pere  
Câte fructe sunt, măi, vere?