


# FISA DE LUCRU „NUMARUL SI CIFRA 9”


GRUPA 2,3



## Numărul și cifra 9



1. Colorează cifra 9 și nouă pătrățele.



2. Desenează pentru fiecare om de zăpadă atâția nasturi câți arată numărul.



7



8




9

3. Colorează cifra nouă care e în poziția corectă.



4. Fiecare copil va primi o săniuță. Câte sănii sunt? Câți copii vor rămâne fără sanie?



Expert suport educațional matematică informatică 2  
Alexandrescu Adriana Luminița