







## FISA DE LUCRU „MATEMATICA SI EXPLORAREA MEDIULUI”


GRUPA 2,3


 **Ită ce știi la Matematică și explorarea mediului! (3)**


**1** Observă tabelul și colorează tot atâtea pătrățele câte animale din fiecare fel sunt.

	8		7
	5		6
















**2** Completează fiecare șir de numere cu numărul care lipsește.


  

**3** Scrie în ordine crescătoare numerele de pe buburuză.







**4** Colorează respectând codul dat.

cap   
trunchi   
membre 



**AUTOEVALUARE:** Cum te simți la sfârșitul evaluării?

94

Expert suport educațional matematică informatică 2  
Alexandrescu Adriana Luminița