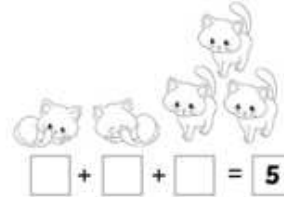
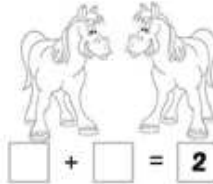
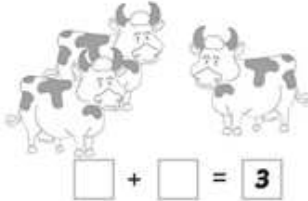


Fișă de lucru „Adunarea numerelor de la 0 la 10”

Grupele nr. 1, 2



1. Completează corespunzător.



2. Verifică rezultatele cocoșului și desenează-i câte un bănuț pentru fiecare rezultat corect.



$3 + 1 = 4$

$1 + 4 = 5$

$1 + 0 = 1$

$2 + 0 = 3$

$1 + 1 = 1$

$2 + 1 = 3$

$0 + 2 = 2$


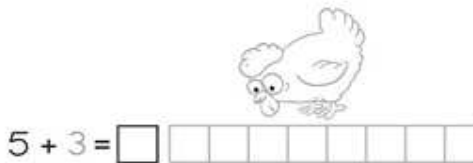

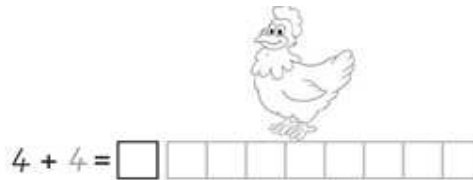
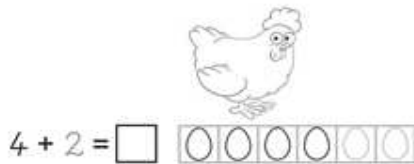
$2 + 3 = 5$

$2 + 2 = 5$

Câți bănuți are cocoșul în punguță?



3. Câte ouă a făcut fiecare găină? Rezolvă și reprezintă exercițiile, după model.

<https://www.facebook.com/EdituraEdu/photos/pcb.4410290935723909/4410288462390823/>