



UNIUNEA EUROPEANĂ



GUVERNUL ROMÂNIEI




Instrumente Structurale
2014-2020

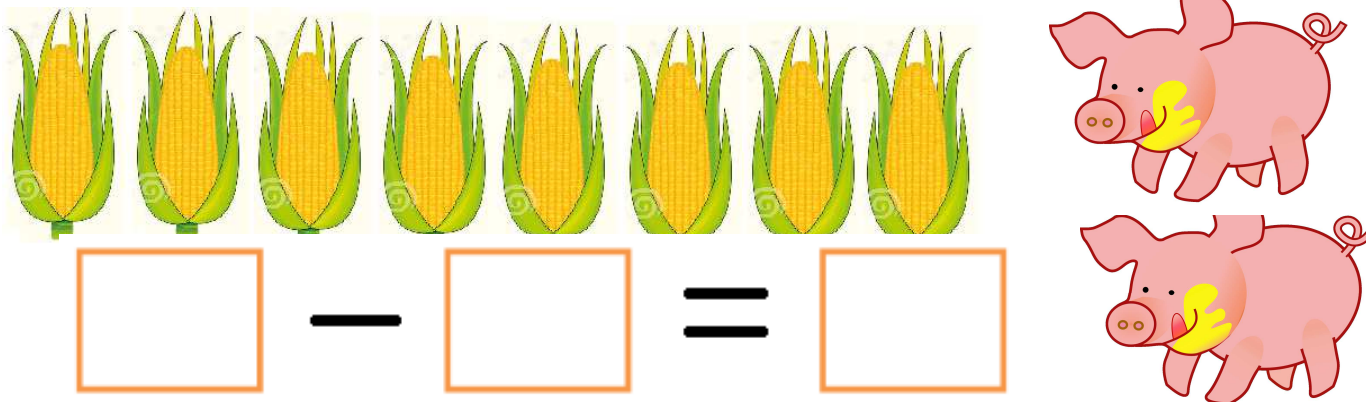
Exerciții și probleme – DȘ2

PROIECT COFINANȚAT DIN FONDUL SOCIAL EUROPEAN PRIN PROGRAMUL OPERAȚIONAL CAPITAL UMAN 2014-2020

1. În luna aprilie în grădina zoologică erau patru girafe. În luna mai au mai fost aduse încă două. Câte girafe sunt acum la grădina zoologică?



2. Bunicul are în grădină știuleți de porumb. Numără-i! A dat doi dintre ei purceilor. Câți știuleți i-au mai rămas bunicului?



SOCIETATEA NAȚIONALĂ SPIRU HARET
PENTRU EDUCAȚIE, ȘTIINȚĂ ȘI CULTURĂ



INSPECTORATUL ȘCOLAR
AL JUDEȚULUI GIURGIU



ProAcces
POCU784/6/24/135599



UNIUNEA EUROPEANĂ



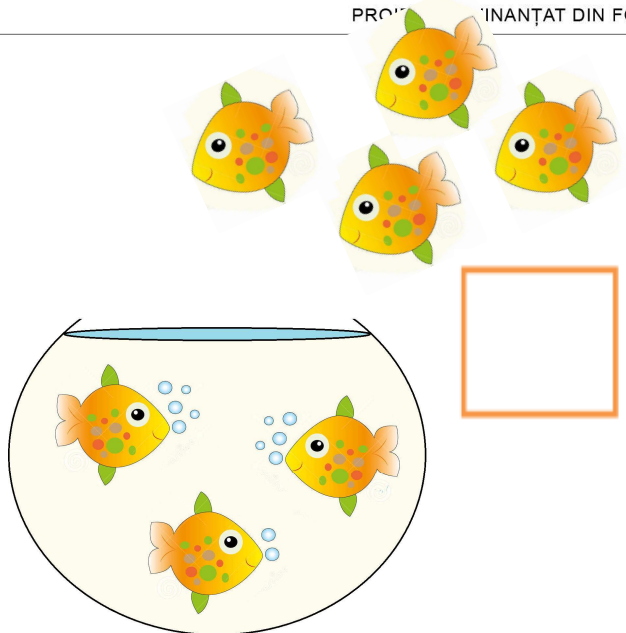
GUVERNUL ROMÂNIEI



Instrumente Structurale
2014-2020


3. Aniria are trei peștișori. Părinții i-au mai cumpărat într-o zi încă patru. Câți peștișori are acum Aniria?

PROIECT FINANȚAT DIN FONDUL SOCIAL EUROPEAN PRIN PROGRAMUL OPERAȚIONAL CAPITAL UMAN 2014-2020



$$\square + \square = \square$$

4. Iannis a adus la grădiniță niște struguri pentru a-i mânca împreună cu prietenii săi. Numără-i! Copiii au mâncat patru. Câți struguri au mai rămas?



$$\square - \square = \square$$


SOCIETATEA NAȚIONALĂ SPIRU HARET
PENTRU EDUCAȚIE, ȘTIINȚĂ ȘI CULTURĂ




INSPECTORATUL ȘCOLAR
AL JUDEȚULUI GIURGIU




ProAcces
POCU784/6/24/135599

PROIECT COFINANȚAT DIN FONDUL SOCIAL EUROPEAN PRIN PROGRAMUL OPERAȚIONAL CAPITAL UMAN 2014-2020

5. Pe Tărâmul Minunat erau construite cinci castele. Împăratul Verde a mai construit două. Câte castele sunt acum?



6. Pentru a realiza un concurs sportiv doamna educatoare a format două echipe. Prima echipă era alcătuită din patru copii iar a doua din cinci copii. Câți copii au participat, în total, la joc?



7. Numără câte fundițe avea Bianca! Ea a pierdut două dintre ele. Câte fundițe mai are acum?

