



PROIECT COFINANȚAT DIN FONDUL SOCIAL EUROPEAN PRIN PROGRAMUL OPERAȚIONAL CAPITAL UMAN 2014-2020

Fișă de lucru

Unghiuri suplimentare. Unghiuri complementare.

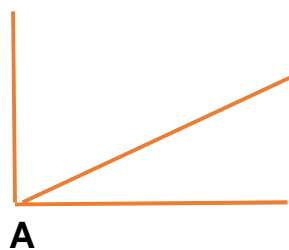
Unghiuri adiacente

1. Scrie mai departe:

- a) Unghiurile suplimentare au suma măsurilor egală cu
- b) Unghiurile complementare au suma măsurilor egală cu
- c) Unghiurile adiacente au

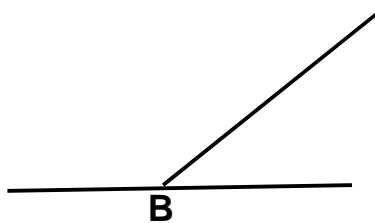
2. Notează sub fiecare figură, felul unghiurilor:

Fig. 1




.....

Fig.2



.....

Fig. 3



.....

Expert: Bădoi Daria



SOCIETATEA NAȚIONALĂ SPIRU HARET
PENTRU EDUCAȚIE, ȘTIINȚĂ ȘI CULTURĂ



INSPECTORATUL ȘCOLAR
AL JUDEȚULUI GIURGIU





UNIUNEA EUROPEANĂ



Instrumente Structurale
2014-2020

PROIECT COFINANȚAT DIN FONDUL SOCIAL EUROPEAN PRIN PROGRAMUL OPERAȚIONAL CAPITAL UMAN 2014-2020

3. Stabilește valoarea de adevăr ale următoarele enunțuri:

- a) **Unghiurile adiacente au interioare comune.**
- b) **În cazul unghiurilor suplimentare, fiecare unghi e suplimentul celuilalt.**
- c) **Unghiurile suplimentare nu sunt adiacente.**
- d) **În cazul unghiurilor complementare, fiecare unghi e complementul celuilalt.**
- e) **Unghiurile complementare sunt aceleași cu unghiurile suplimentare.**

4. Folosind o riglă și un echer, desenați în spațiul dat:

- a) **două unghiuri adiacente complementare.**
- b) **două unghiuri adiacente suplimentare.**

Expert: Bădoi Daria



SOCIETATEA NAȚIONALĂ SPIRU HARET
PENTRU EDUCAȚIE, ȘTIINȚĂ ȘI CULTURĂ



INSPECTORATUL ȘCOLAR
AL JUDEȚULUI GIURGIU



ProAcces
PROIECT FINANȚAT DE UNIUNEA EUROPEANĂ

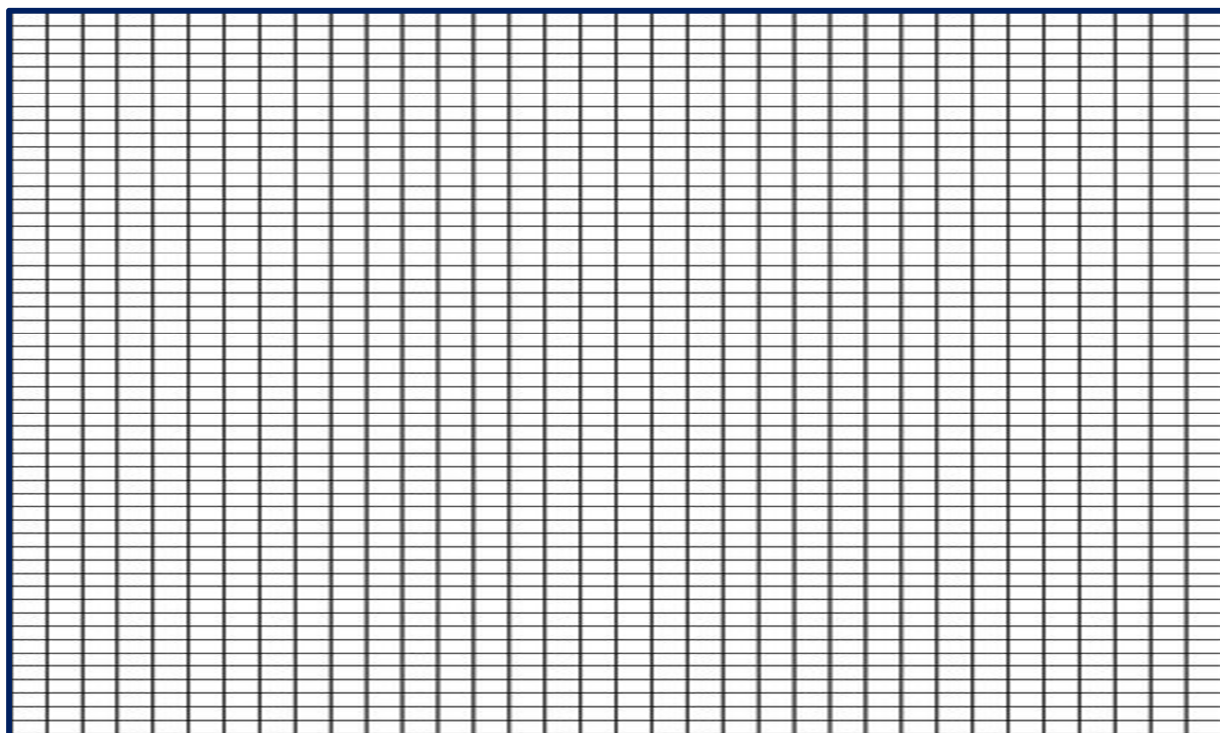


UNIUNEA EUROPEANĂ



Instrumente Structurale
2014-2020

PROIECT COFINANȚAT DIN FONDUL SOCIAL EUROPEAN PRIN PROGRAMUL OPERAȚIONAL CAPITAL UMAN 2014-2020



5. Un unghi are măsura de 65° . Calculați:

a) măsura complementului său.

b) măsura suplementului său.

Expert: Bădoi Daria



SOCIETATEA NAȚIONALĂ SPIRU HARET
PENTRU EDUCAȚIE, ȘTIINȚĂ ȘI CULTURĂ



INSPECTORATUL ȘCOLAR
AL JUDEȚULUI GIURGIU

