

Fisa de lucru

Descompunerea numerelor. Exerciții

Grupa nr. 1

I. Exerciții recapitulative:

1. Compară numerele:

$4 \underline{\quad} 6$

$8 \underline{\quad} 8$

$7 \underline{\quad} 3$

2. Serie vecinii numerelor:

$\underline{\quad} 2 \underline{\quad}$

$\underline{\quad} 7 \underline{\quad}$

$\underline{\quad} 4 \underline{\quad}$

3. Calculează:

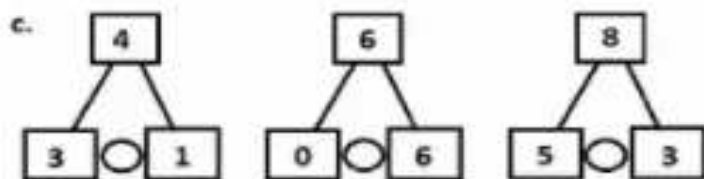
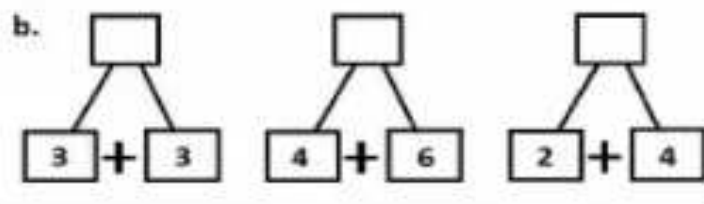
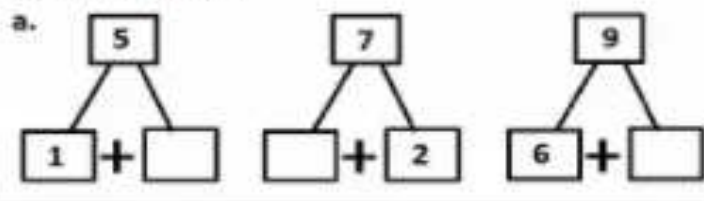
$7 - 5 =$

$4 + 2 =$

$2 + 2 - 1 =$

II. Exerciții tip de descompunere:

1. Completează cu termenul care lipsește, rezultatul operației și semnul corespunzător:



<https://ro.scribd.com/doc/187550016/Fisa-Mate-Descompunerea-numerelor>